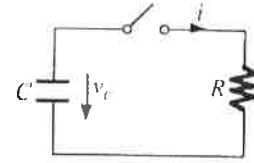


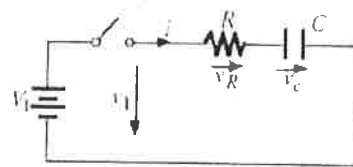
## 2ª Série de problemas

1. Considere o circuito representado na figura, com  $R=1M\Omega$  e  $C=1\mu F$ .



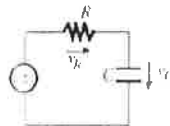
- a) Calcule os valores de  $V_c$  e  $i$  nos instantes 1s e 2s após o fecho do interruptor. Represente graficamente  $V_c(t)$  e  $i(t)$ .
- b) Calcule o tempo necessário para que  $V_c(t)=5V$ .
- c) Determine o valor que deveria ter  $R$  para que  $V_c(t)=2V$  ao fim de 1s.

2. Considere o circuito representado na figura, com  $R=1k\Omega$ ,  $C=1nF$  e  $V_1$  representa um fonte de tensão de 10V.



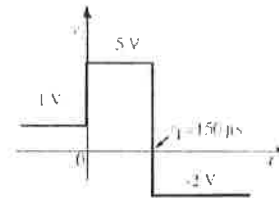
- a) Calcule  $V_c$ ,  $V_R$  e  $i$  nos seguintes instantes após o fecho do interruptor:  $0.5\tau$ ,  $\tau$ ,  $2\tau$ ,  $3\tau$ ,  $4\tau$  e  $5\tau$ . Represente graficamente  $v_1(t)$ ,  $V_c(t)$ ,  $V_R(t)$  e  $i(t)$ .
- b) Calcule o tempo de subida de  $V_c(t)$  entre 10% e 90% do valor final.
- c) Calcule a energia armazenada no condensador quando  $V_c=5V$ , bem como a energia fornecida pela bateria e a dissipada na resistência até esse instante.

3. Considere o circuito representado na figura, ao qual se aplica uma tensão  $V_1(t)$  com a forma igualmente especificada na figura. Determine as expressões de  $V_c(t)$  e  $V_R(t)$  e represente graficamente.

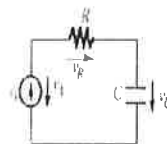


$$R = 10 \text{ k}\Omega$$

$$C = 10 \text{ nF}$$

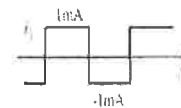


4. Considere o circuito representado na figura, no qual  $i(t)$  é uma corrente periódica com frequência de 1kHz e tem a forma indicada. Admitindo que o valor médio de  $V_c(t)$  é de 2V, calcule os seus valores máximo e mínimo e represente graficamente  $V_c(t)$ ,  $V_R(t)$  e  $V_1(t)$ .

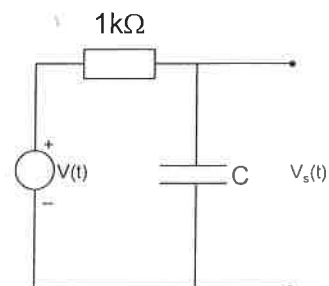


$$R = 2 \text{ k}\Omega$$

$$C = 0.5 \text{ }\mu\text{F}$$



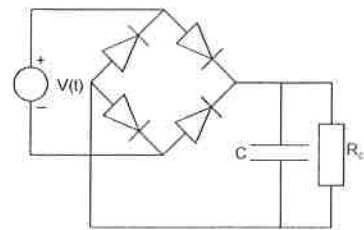
5. Considere o circuito representado na figura.
- a) determine o valor de  $C$  sabendo que quando  $V(t)$  representa um sinal com uma amplitude de 10V e uma frequência de 1kHz, se obtém na saída um sinal com 3V de amplitude.
  - b) Determine a diferença de fase entre  $V_s(t)$  e  $V(t)$  nas condições da alínea anterior.
  - c) Represente os vectores  $i(t)$ ,  $V(t)$ ,  $V_R(t)$ , e  $V_s(t)$  no



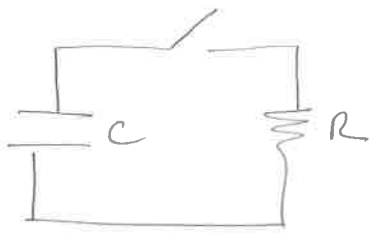
espaço imaginário, num instante de tempo à sua escolha.

6. Considere um filtro passa-alto com uma frequência de corte de 1kHz. Determine:
  - a) o valor da resistência utilizada no circuito sabendo que  $C=1\mu\text{F}$ .
  - b) a impedância do circuito vista dos terminais da fonte para uma frequência tripla da frequência de corte.
  - c) esboce o que espera obter na saída do circuito quando excitar o circuito com um sinal sinusoidal de 5V de amplitude nos dois limites  $\omega \gg \omega_0$  e  $\omega \ll \omega_0$ .
7. Projecte um filtro passa-baixo com uma frequência de corte de 5kHz, e cuja impedância seja de  $1\text{k}\Omega$  à frequência de 1kHz.
8. Admitindo que possui um indutor com uma indutância de 150mH, projecte um filtro passa-banda com a banda passante centrada numa frequência de 3kHz com um factor de qualidade  $Q=50$ . Determine a largura de banda do filtro.
9. Considere um circuito RLC com  $R=1\Omega$ , e  $C=100\mu\text{F}$  ao qual se encontra aplicada uma tensão sinusoidal com uma frequência de 50Hz. Determine o valor do indutor que anula a energia reactiva consumida pelo circuito.
10. Considere o circuito representado na figura onde  $C=10\mu\text{F}$ ,  $R_c=1\text{k}\Omega$ , os díodos representados são semelhantes aos que utilizou nas aulas práticas, e a tensão, gerada por um gerador de tensão ideal, tem a forma  $V(t)=V_0 \text{sen}(2\pi \times 10^3 t)$ , com  $V_0=5\text{V}$ .

- a) Esboce detalhadamente o sinal que espera obter aos terminais da resistência  $R_c$  quando o condensador não está ligado.
- b) Repita a alínea anterior admitindo agora que o condensador se encontra ligado como se representa na figura.
- c) Estime o valor da ondulação residual aos terminais da resistência de carga.



1



$$R = 1 \text{ M}\Omega \quad \left. \begin{array}{l} C = 1 \mu\text{F} \\ V_0 = 10 \text{ (t=0)} \end{array} \right\} \Rightarrow RC = 10^6 \times 10^{-6} = 1$$

a)  $V_c(t) = V_R(t) = R i(t)$   
 $i(t) = i_0 e^{-t/RC} = \frac{V_0}{R} e^{-t/RC}$   
 $t=0 \Rightarrow i = \frac{10 \text{ V}}{10^6 \Omega} = 10 \mu\text{A}$   
 $t=1 \text{ s} \Rightarrow i = 10 \mu\text{A} \times e^{-1} \approx 3,6 \mu\text{A}$   
 $t=2 \text{ s} \Rightarrow i = 10 \mu\text{A} \times e^{-2} \approx 1,3 \mu\text{A}$

b)  $V_c(t) = V_R(t) = R i(t) = R \frac{V_0}{R} e^{-t/RC} = V_0 e^{-t/RC}$

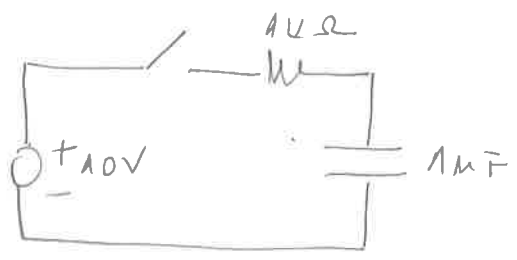
$$\frac{V_c(t)}{V_0} = e^{-t/RC} \Rightarrow -\frac{t}{RC} = \ln\left(\frac{V_c(t)}{V_0}\right)$$

$$t = RC \ln\left(\frac{V_0}{V_c(t)}\right)$$

$$RC = 1 \text{ s} \Rightarrow t = 1 \times \ln(2) \Rightarrow t \approx 0,69 \text{ s}$$

c)  $\frac{2}{10} = e^{-\frac{1}{R \times 10^{-6}}} \Rightarrow \ln\left(\frac{2}{10}\right) = -\frac{1}{R \times 10^{-6}}$   
 $\Rightarrow \ln 5 = \frac{1}{R \times 10^{-6}} \Rightarrow R = \frac{1}{\ln(5) \times 10^{-6}} \approx 0,621 \text{ M}\Omega$

2



WUMM MALHA RC:

$$\left\{ \begin{array}{l} i(t) = \frac{V_0}{R} e^{-t/RC} \\ V_R(t) = R \times i(t) = V_0 e^{-t/RC} \\ V_c(t) = V_0 (1 - e^{-t/RC}) \end{array} \right.$$

$t/\tau_0$	$e^{-t/\tau_0}$	$i/\mu A$	$v_R/V$	$v_C/V$
0,5	0,606	6,1	6,1	3,9
1	0,368	3,7	3,7	6,3
2	0,1353	1,3	1,3	8,6
3	0,0498	0,50	0,50	9,5
4	0,0183	0,18	0,18	9,8
5	0,0067	0,07	0,07	9,9

(2)

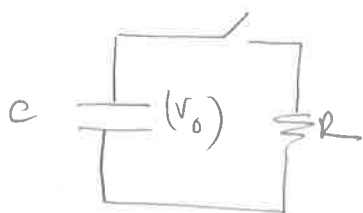
b)  $\frac{v_C(t)}{V_0} = 1 - e^{-t/\tau_0} \Rightarrow \left(1 - \frac{v_C(t)}{V_0}\right) = e^{-t/\tau_0} \Rightarrow \ln\left(1 - \frac{v_C(t)}{V_0}\right) = -\frac{t}{\tau_0}$

-  $\frac{t}{\tau_0} (10\%) = \ln(1 - 0,1) = \ln(0,9) \approx -0,10$

-  $\frac{t}{\tau_0} (90\%) = \ln(1 - 0,9) = \ln(0,1) \approx -2,30$

$\Delta t = (2,3 - 0,1)\tau_0 = 2,2 (10^3 \times 10^{-9}) s \approx 2,2 \mu s$

c) QUAL É ENTÃO A ENERGIA ARMAZENADA NUM CONDENSADOR CARREGADO COM UMA TENSÃO  $V_0$ ? EXACTAMENTE A ENERGIA QUE SERÁ DISSIPADA NUMA RESISTÊNCIA  $R$  QUE LHE SEJA LIGADA AO TERMINAL DÍPTE O INSTANTE  $t=0$  ATÉ AO INSTANTE  $t=\infty$ !



$i(t) = \frac{V_0}{R} e^{-t/\tau_0}$

$P(t) = R i^2 = R \frac{V_0^2}{R^2} e^{-2t/\tau_0} = \frac{V_0^2}{R} e^{-2t/\tau_0}$

$E_{\text{TOTAL}} = \int_0^{+\infty} P(t) dt = \frac{V_0^2}{R} \int_0^{+\infty} e^{-2t/\tau_0} dt = \frac{V_0^2}{R} \left(-\frac{\tau_0}{2}\right) \left[ e^{-2t/\tau_0} \right]_0^{+\infty}$

$E_{\text{TOTAL}} = \frac{1}{2} C V_0^2$

$= (0 - 1) = -1$

Neste caso:

$E_{\text{TOTAL}} = \frac{1}{2} 10^{-9} \times 5^2 = 12,5 \text{ nJ}$

AGORA ABORA CALCULAR A POTÊNCIA FORNECIDA PELA BATERIA ( $P_B$ ):

t (Vc = 5V) = ?

Vc(t) = V0 (1 - e^{-t/tau}) => 1/2 = 1 - e^{-t/tau} => ln(0,5) = -t/tau

=> t = -tau (ln(0,5)) = 0,693 tau

Pg(t) = Vg x i(t) = 10 x (V0/R) e^{-t/tau} = (10^2 / 10^3) e^{-t/tau} = 0,1 e^{-t/tau}

A ENTALPIA TOTAL FORNECIDA PELA GERADORA DESDE O INICIO ATÉ t = 0,693 tau É:

Eg = integral from 0 to 0,693 tau of Pg(t) dt = 0,1 x (-tau) [e^{-t/tau}]\_0^{0,693 tau} =

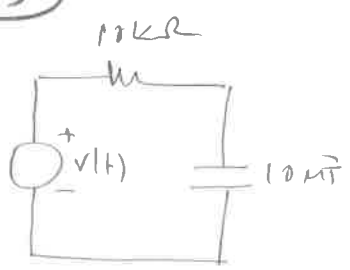
= -0,1 tau (e^{-0,693} - 1) = (0,05 x tau) J

tau = 10^3 x 10^{-9} = 10^{-6} s => Eg = 5 x 10^{-2} x 10^{-6} J = 50 uJ

A PARTE DESTA ENTALPIA QUE FOI DISSIPADA NA RESISTENCIA É A QUE NUNCA ESTÁ NO FINAL ARMAZENADA NO CONDENSADOR;

E\_dissip. = Eg - E\_cad. = 50 uJ - 12,5 uJ = 37,5 uJ

3



RC = 10^4 x 10^{-8} = 10^{-4} s = 100 us

v(t) = { 1V (t = -inf atc' t = 0) (a)
5V (t = 0 atc' t = 150 us) (b)
-2V (t = 150 us atc' t = +inf) (c)

(a) -> Vc(t) = 1V, Vd(t) = 0
(b) -> Vc(t) = 1V + 4(1 - e^{-t/tau}) = (5 - 4e^{-t/tau}) V
i(t) = (4/10^4) e^{-t/tau} A => Vd(t) = 4e^{-t/tau}

(c) em t = 150 us = 1,5 tau
Vc(t) = 5 - 4e^{-1,5} = 4,1V

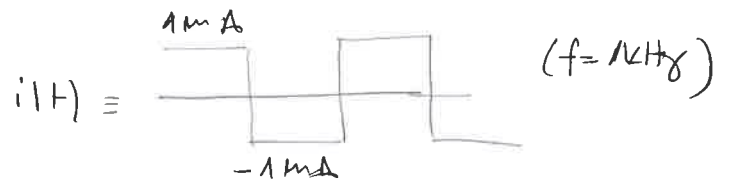
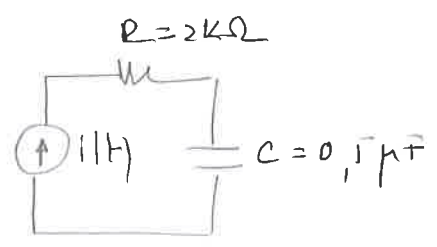
Logo, A PARALLEL RC CIRCUIT INSTANT STAN:

$$V_c(t) = 4,1 + (-6,1) \left(1 - e^{-\frac{(t-150\mu s)}{\tau_0}}\right)$$

$$V_c(t) = -2,1 + 6,1 e^{-\frac{(t-150\mu s)}{\tau_0}}$$

$$V_R(t) = -6,1 e^{-\frac{(t-150\mu s)}{\tau_0}}$$

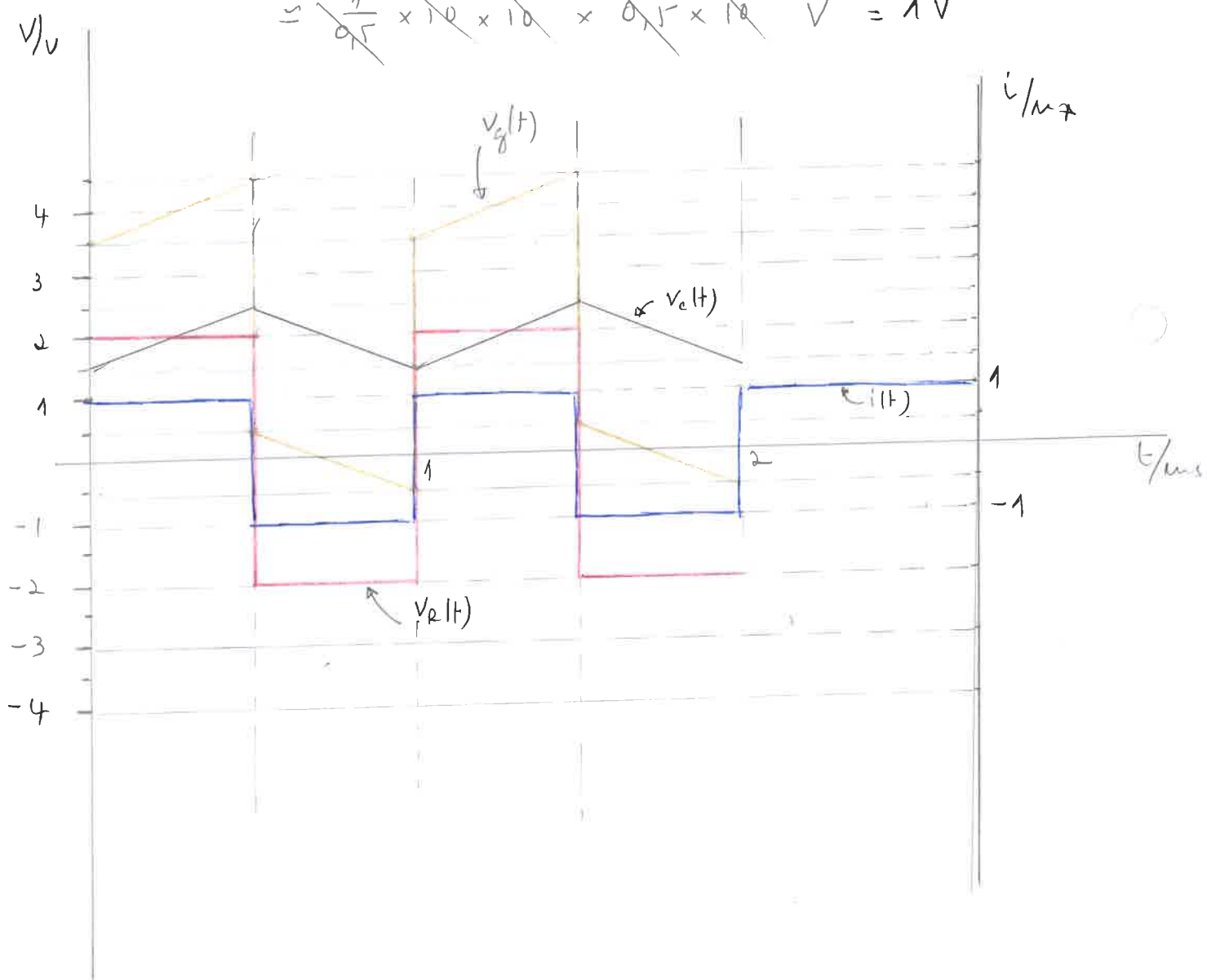
4



$$\langle V_c(t) \rangle = 2V$$

$$\Delta V_c = \frac{1}{C} \int_{\frac{1}{2} \text{ period}} i(t) dt = \left( \frac{1}{2,5 \times 10^{-6}} \times 1 \text{ mA} \times \frac{1}{2f} \right) V \approx$$

$$\approx \frac{1}{2,5} \times 10^{-6} \times 10^{-3} \times 0,5 \times 10^{-3} V = 1V$$



5

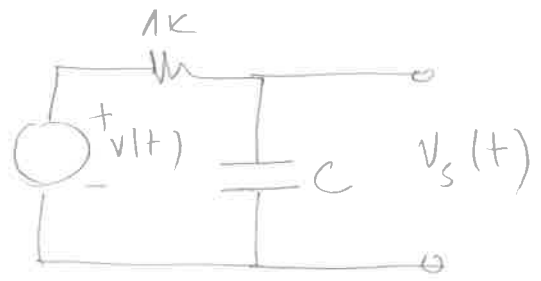
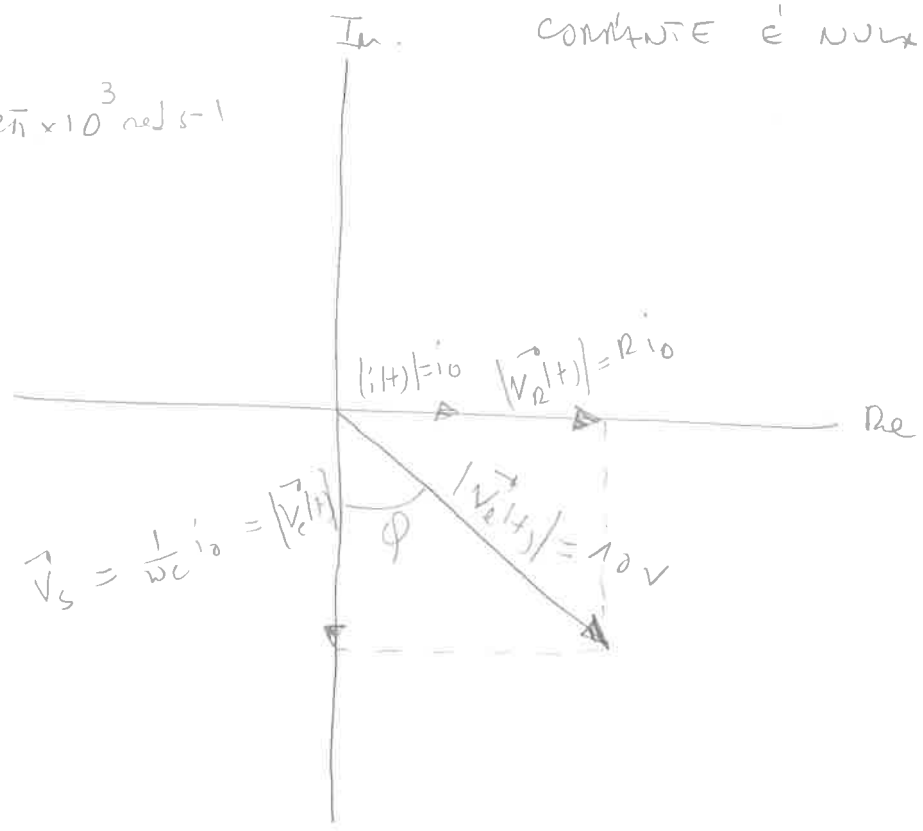


DIAGRAMA DE ARGAND (REPRESENTAÇÃO NO INSTANTE EM QUE A CORRENTE É NULA)

$$\omega = 2\pi f = 2\pi \times 10^3 \text{ rad/s}^{-1}$$



a)

$$\begin{cases} |\vec{V}_e(t)| = \sqrt{(R i_0)^2 + \left(\frac{1}{\omega C} i_0\right)^2} = i_0 \sqrt{R^2 + \left(\frac{1}{\omega C}\right)^2} = 10V \\ |\vec{V}_s(t)| = \frac{1}{\omega C} i_0 = 3V \Rightarrow i_0 = 3\omega C \end{cases}$$

$$\frac{10}{3} = \omega C \sqrt{R^2 + \left(\frac{1}{\omega C}\right)^2} = \sqrt{(R\omega C)^2 + 1}$$

$$\frac{100}{9} = (R\omega C)^2 + 1 \Rightarrow C^2 = \frac{100/9 - 1}{(RW)^2}$$

$$C = \frac{\sqrt{100/9 - 1}}{RW} = \frac{2.33}{10^3 \times 2\pi \times 10^3} \approx 0,4 \mu F$$

b)

$$\varphi = - \arctan\left(\frac{R i_0}{\frac{1}{\omega C} i_0}\right) = - \arctan(R\omega C) = - \arctan\left(10^3 \times 2\pi \times 10^3 \times 0,4 \times 10^{-6}\right)$$

$$= - \arctan(2,51) = -68,3^\circ$$

6

a) NA FREQUÊNCIA DE CORTE  $X_R = X_C$

$$R = \frac{1}{\omega C} = \frac{1}{2\pi \times 10^3 \times 1 \times 10^{-6}} \approx 160 \Omega$$

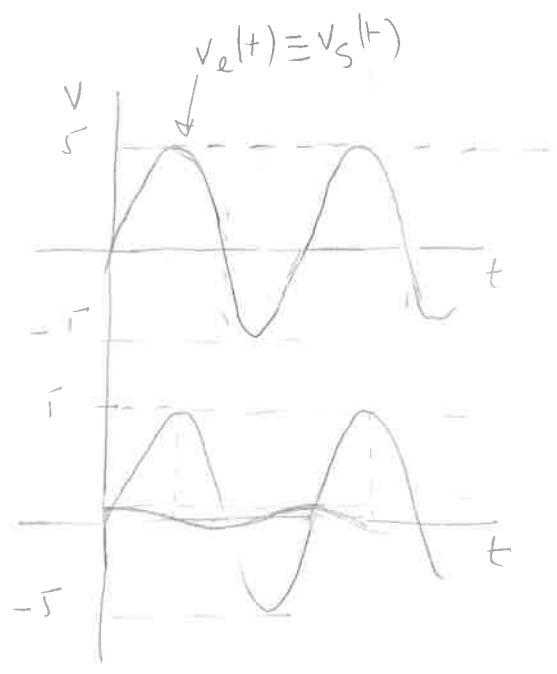
$$b) \vec{Z} = R - \left(\frac{1}{\omega C}\right) j = 160 + \frac{1}{2\pi \times 10^3 \times 10^{-6}} j \approx 160 + 159 j$$

$$|\vec{Z}| = \sqrt{160^2 + 159^2} \approx 226,6 \Omega$$

c) FILTRO PASSA-ALTO; (SAÍDA EM R)

$$\omega \gg \omega_0 \quad \left\{ \begin{array}{l} f(\omega) \approx 1 \\ \phi \approx 0 \end{array} \right.$$

$$\omega \ll \omega_0 \quad \left\{ \begin{array}{l} f(\omega) \approx 0 \\ \phi \approx +\pi/2 \end{array} \right.$$



$$\left\{ \begin{array}{l} X_R = X_C \text{ a } 5 \text{ kHz} \\ |\vec{Z}| = 10^3 \Omega \end{array} \right.$$

$$\left\{ \begin{array}{l} R = \frac{1}{2\pi \times 5 \times 10^3 C} \\ \sqrt{R^2 + \left(\frac{1}{2\pi \times 5 \times 10^3 C}\right)^2} = 10^3 \end{array} \right. \left\{ \begin{array}{l} \left(\frac{1}{2\pi \times 5 \times 10^3 C}\right)^2 + \left(\frac{1}{2\pi \times 5 \times 10^3 C}\right)^2 = 10^6 \end{array} \right.$$

$$\left\{ \begin{array}{l} \frac{2}{(2\pi \times 5 \times 10^3 C)^2} = 10^6 \\ z = 10^6 \times (2\pi \times 5 \times 10^3)^2 C^2 \end{array} \right. \left\{ \begin{array}{l} C = \sqrt{\frac{2}{(10\pi)^2 \times 10^{12}}} \end{array} \right.$$

$$\left\{ \begin{array}{l} R = \frac{1}{2\pi \times 5 \times 10^3 \times 4,5 \times 10^{-8}} \Omega \\ C = 4,5 \times 10^{-8} \text{ F} \end{array} \right. \left\{ \begin{array}{l} R \approx 707 \Omega \\ C = 4,5 \times 10^{-8} \text{ F} \end{array} \right.$$



8

$L = 150 \text{ mH}$   
 $\omega_0 = 3 \text{ kHz}$   
 $Q = 50$

$Q = \frac{\omega_0 L}{R} = \frac{1}{R} \sqrt{\frac{L}{C}}$   
 $\omega_0 = \frac{1}{\sqrt{LC}}$

$$\left\{ \begin{array}{l} \frac{1}{\sqrt{LC}} = 2\pi \times 3 \times 10^3 \\ \frac{2\pi \times 3 \times 10^3 \times 150 \times 10^{-3}}{R} = 50 \end{array} \right. \left\{ \begin{array}{l} C = \frac{1}{(2\pi \times 3 \times 10^3)^2 \times 150 \times 10^{-3}} \text{ F} \\ R = \frac{6\pi \times 150}{50} = 18\pi \text{ } \Omega \end{array} \right.$$

$L = 150 \text{ mH} ; R \approx 56 \text{ } \Omega ; C \approx 1,9 \times 10^{-8} \text{ F}$

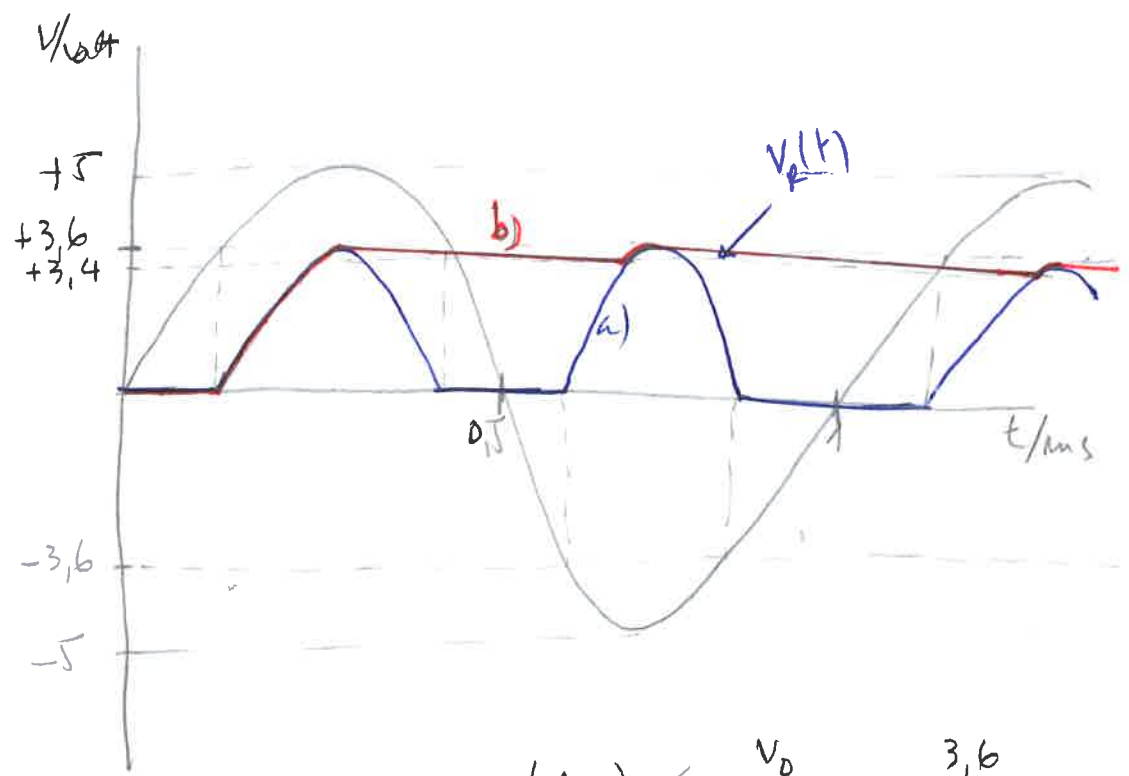
9

$f = 50 \text{ Hz} \Rightarrow \omega = 2\pi \times 50 \text{ rad/s} \approx 314 \text{ rad/s}$   
 PARA QUE A POTÊNCIA REATIVA SEJA NULA,

$X_C = X_L \Rightarrow \omega L = \frac{1}{\omega C}$

$L = \frac{1}{\omega^2 C} = \frac{1}{(314)^2 \times 10 \times 10^{-6}} \text{ H} \approx 1 \text{ H}$

10



$(\Delta V_C)_{\text{máx}} < \frac{V_0}{2fRC} = \frac{3,6}{2 \times 10^3 \times 10^3 \times 10 \times 10^{-6}} \text{ V}$   
 $\approx 0,2 \text{ V}$